


Finnes det ekte bjørner i Peru?

Ja, det finnes faktisk bjørner i Peru! Andes-bjørnen er den eneste bjørnarten som lever i Peru. Andes-bjørner er den eneste bjørnen som finnes i hele Sør-Amerika. Disse bjørnene lever i Andesfjellene, som strekker seg gjennom flere land, inkludert Peru.

Andes-bjørnen lever i skogkledd fjellområder, ofte i nærheten av der skyene ligger. Dette er veldig høyt oppe i lufta på over 1 000 meter.



Andes-bjørnen er kjent for å være en sky planteeter. Den spiser frukt, kaktus og bambusblader.

En hunn-bjørn går gravid i 5-8 måneder. Hun føder 1-2 unger i en hule. Når ungene er født er de blinde og uten pelse. De veier bare noen gram. Mammaen passer på dem i 2 år.

Hvilken type bjørn er Paddington?

Paddington er en andes-bjørn, også kjent som en brillebjørn. Den heter dette på grunn av de lyse ringene rundt øynene som ligner på briller.



Brillebjørnen er en 200 kg tung bjørn, Den har svart og litt hvit pels. Skulderhøyde er 90 cm, kroppslengde opptil 2,10 meter.

Oppgaver

- 1) Hvilke bjørnetyper lever i Sør-Amerika?
- 2) Hvorfor kalles denne bjørnen en brillebjørn?
- 3) Hva slags bjørn er Paddington?
- 4) Hva spiser en brillebjørn?

Utseende

Mat

Jeg er en



Bosted

Formering

Skriv hva rommene heter på ENGELSK



Skriv in hva rommet heter på engelsk



This is the



This is the



This is the



This is the

Hvilken av kakene har Paddington spist opp?

Sett ring rundt kaken som er borte

Disse kakene hadde han:



Hvilken kake er borte?



Finn 6 feil på nederste bilde



Fill in the missing words

Paddington has a bed in the _____.

He likes to make cookies in the _____.

Every night Paddington watches TV in the _____.

He brushes his teeth in the _____.



My name is _____.

I like to eat _____.

I sit in a _____.

Finn 7 feil på nederste bilde



Skipsreisen til Paddington

Nord-Amerika

Da Paddington dro fra Peru til London måtte han seile på et skip i nesten 4 uker.

London

For å komme seg trygt frem gikk skipet gjennom en kanal som heter Panama kanalen. Den er laget av mennesker. Den reddet mange.

Peru

Sør-Amerika

Frankrike begynte å bygge kanalen i 1881, men mange arbeidere døde av sykdommer. Prosjektet stoppet nesten opp. USA tok over arbeidet i 1904 og de fullførte kanalen i 1914.

Kanalen er 82 km lang.
Det tar 8-10 timer å kjøre igjennom.
I kanalen er det 3 sluser som løfter båtene 26 meter opp i lufta.

Oppgaver


- 1) Hva heter kanalen mellom Nord-Amerika og Sør-Amerika?
- 2) Hva er bra med den kanalen?
- 3) Hvor lang tid tar det å kjøre gjennom kanalen?
- 4) Hvem laget kanalen?

Paddington dro med skip

Paddington snek seg om bord på et skip.

Han gjemte seg i en livbåt.


Han var blind-passasjer.



Kapteinen sjekker veien på et kart.

Disse skipene fraktet varer som kaffe, sukker, frukt, ull, og mineraler fra Sør-Amerika til London.

Frukten de hadde med seg var bananer og appelsiner.



Lasteskipet dro gjennom Panama-kanalen.

For å finne frem brukte de kompass og store kart. Om natten brukte sjømennene å se etter stjernene på himmelen.



Oppgaver

- 1) Hvordan dro Paddington fra Peru til London?
- 2) Hva slag varer hadde skipet med seg:
- 3) Hvorfor tror du folk i London ble veldig glad for frukten skipet hadde med seg?

Sett strek til riktig rom

Paddington makes food in the kitchen.



Paddington sits in the livingroom



Paddington takes a bath in the bathroom



Paddington sleeps in the bedroom



Finn 9 feil på nederste bilde



Hvilken av lekene har Paddington kjøpt?

Sett ring rundt leken som er borte

Disse lekene var i butikken:



Disse lekene var igjen i butikken:



Vi regner med låning og oppstilling

1

Skriv av oppgavene og regn ut svarene i ruteboken din.
Husk å vise hvordan du veksler og låner.

a)
$$\begin{array}{r} 37 \\ - 8 \\ \hline \\ = \\ \hline \hline \end{array}$$

b)
$$\begin{array}{r} 64 \\ - 5 \\ \hline \\ = \\ \hline \hline \end{array}$$

c)
$$\begin{array}{r} 17 \\ - 6 \\ \hline \\ = \\ \hline \hline \end{array}$$

d)
$$\begin{array}{r} 67 \\ - 8 \\ \hline \\ = \\ \hline \hline \end{array}$$

e)
$$\begin{array}{r} 142 \\ - 13 \\ \hline \\ = \\ \hline \hline \end{array}$$

f)
$$\begin{array}{r} 124 \\ - 16 \\ \hline \\ = \\ \hline \hline \end{array}$$

g)
$$\begin{array}{r} 56 \\ - 7 \\ \hline \\ = \\ \hline \hline \end{array}$$

h)
$$\begin{array}{r} 44 \\ - 5 \\ \hline \\ = \\ \hline \hline \end{array}$$

i)
$$\begin{array}{r} 36 \\ - 8 \\ \hline \\ = \\ \hline \hline \end{array}$$

j) Paddington skal ha med gaver til sine venner. Han har 8 venner. I år skal alle få 2 gaver hver. I tillegg kjøper han 3 gaver til tante Lucy. Hvor mange gaver trenger han?



Hva er tallet?

Hvert bilde er et hemmelig tall. Finn ut hvilket tall det er.

$$\text{Bus} + \text{Bus} + \text{Bus} = 27$$

$$\text{Bus} + \text{Bear} + \text{Bear} = 19$$

$$\text{Bear} - \text{Marmalade} = 1$$

$$\text{Bus} + \text{Bear} + \text{Marmalade} = ?$$


Hva er tallet?

Hvert bilde er et hemmelig tall. Finn ut hvilket tall det er.


$$= 64$$


$$= 29$$


$$= 40$$


$$= ?$$

Vi regner med låning og oppstilling

3

Skriv av oppgavene og regn ut svarene i ruteboken din.
Husk å vise hvordan du veksler og låner.

$$\begin{array}{r} \text{a)} \\ 137 \\ - 19 \\ \hline \\ = \\ \hline \hline \end{array}$$

$$\begin{array}{r} \text{b)} \\ 2264 \\ - 75 \\ \hline \\ = \\ \hline \hline \end{array}$$

$$\begin{array}{r} \text{c)} \\ 137 \\ - 26 \\ \hline \\ = \\ \hline \hline \end{array}$$

$$\begin{array}{r} \text{d)} \\ 465 \\ - 78 \\ \hline \\ = \\ \hline \hline \end{array}$$

$$\begin{array}{r} \text{e)} \\ 1242 \\ - 113 \\ \hline \\ = \\ \hline \hline \end{array}$$

$$\begin{array}{r} \text{f)} \\ 527 \\ - 328 \\ \hline \\ = \\ \hline \hline \end{array}$$

$$\begin{array}{r} \text{g)} \\ 456 \\ - 77 \\ \hline \\ = \\ \hline \hline \end{array}$$

$$\begin{array}{r} \text{h)} \\ 844 \\ - 75 \\ \hline \\ = \\ \hline \hline \end{array}$$

$$\begin{array}{r} \text{i)} \\ 836 \\ - 78 \\ \hline \\ = \\ \hline \hline \end{array}$$



j) I år bruker Paddington alle sparepengene sine på gaver. Det blir veldig mye penger. Alle gavene kostet 1375,- Han har bare 567,- igjen i sparegrisen. Hvor mye hadde han før han gikk på shopping?



Paddington godteri

Sudoku

Klipp ut de fire rutene nederst og lim dem på riktig plass.



Klipp ut disse 4 brikkene og sett dem på riktig plass i rutenettet over.

Husk at du ikke skal ha samme figur i samme rad vannrett eller loddrett